

20 points, 90 minutes. Les parties sont indépendantes. Calculatrice collège et formulaire manuscrit A4 recto-verso autorisés. Répondre **uniquement** sur ce sujet.

Partie 1 : Études graphiques – 5 points

- Déterminer l'équation de la fonction $g(x)$, causale et sinusoidale, dont la courbe est reportée sur la figure 3 ci-dessous. (2 pt)

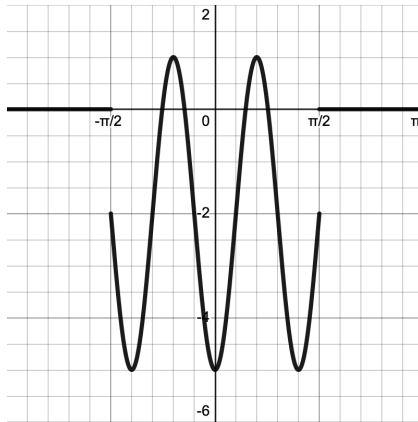


Figure 3

- La courbe C_f représentative de la fonction $f(x) = A \cdot [1 - e^{-\alpha x}]$ est reportée sur la Figure 1. Déterminer graphiquement les valeurs de A et α . (1,5 pt)

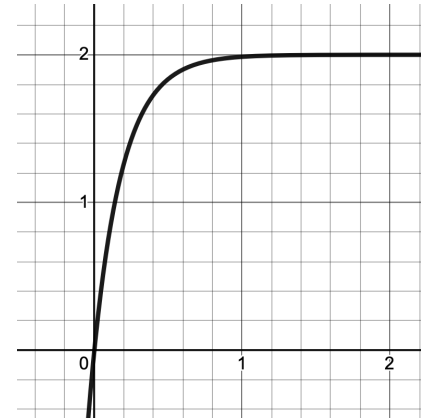


Figure 1.

- La courbe représentative de la fonction $h(x)$ est reportée sur la figure 2. Analyser la continuité et la dérivabilité de h en $x = 1$ et en $x = 3$. (1,5 pt)

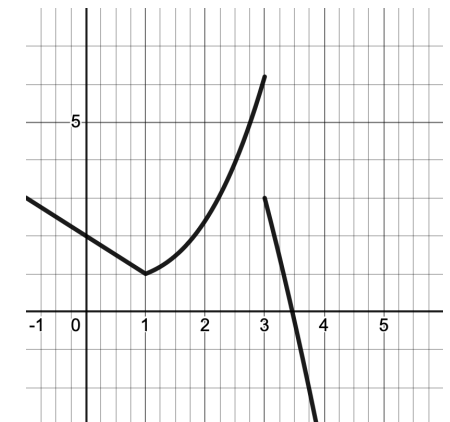


Figure 2.

Partie 2 : Continuité et dérivabilité – 4 points

1. On considère la fonction $g(x)$ définie par $g(x) = \begin{cases} x^2 + x + 1 & \text{si } x < 0 \\ \exp(x) & \text{si } x \geq 0 \end{cases}$

(a) Étudier la continuité de g en $x = 0$. (1 pt)

(b) Étudier la dérivabilité de g en $x = 0$. (1,5 pt)

2. Prolonger la fonction $f(x) = \frac{\ln(x-1)}{x^2-4}$ par continuité en $x = 2$. (1,5 pt)

Partie 3 : Fonctions réciproques – 3 points

1. Soit la fonction $h(x) = \arccos(x^2 - 1)$. (2 pt)

(a) Question de cours : donner l'ensemble de définition de $\arccos(x)$.

(b) En déduire l'ensemble de définition de h .

(c) Calculer la dérivée de h .

2. Donner une mesure en degrés d'un angle ayant un cosinus de $-\sqrt{3}/2$ et un sinus de $-1/2$. (1 pt)

Partie 4 : Étude de branches infinies – 8,5 points

1. On considère la fonction $f(x) = \frac{2x^3 + x^2 + 1}{x^2 - x - 6}$. (6 pt)

(a) Tout d'abord, déterminer l'ensemble de définition de f .

(b) Passer ensuite à l'étude des branches infinies de C_f , en commençant dans cette question par établir les équations des **asymptotes verticales**, en précisant les valeurs des limites de la fonction.

(c) Poursuivre l'étude des branches en établissant, dans cette question, les équations des **asymptotes obliques** (ou **horizontales**) de C_f .

(d) Enfin, donner la position relative de C_f par rapport à son asymptote quand $x \rightarrow +\infty$.

2. Soit enfin la fonction $g(x) = x + 1 - \sqrt{x}$. Après avoir donné l'ensemble de définition de g , étudier ses branches infinies. (2,5 pt)